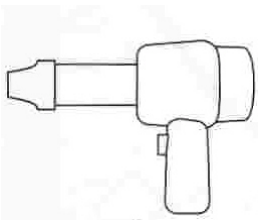


# Recherches « Electricité »

## - Cycle 2 - Corrigé

### L'électricité dans la vie quotidienne

1/ Indique si ces objets fonctionnent grâce à l'électricité, ou non. Si oui, précise s'ils utilisent le courant du secteur (la prise de courant) ou des piles (ou batteries) :



appareil électrique :  
oui  non   
Si oui, il utilise :

**Le secteur**



appareil électrique :  
oui  non   
Si oui, il utilise :

**Le secteur**



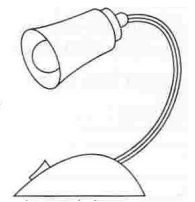
appareil électrique :  
oui  non   
Si oui, il utilise :

.....



appareil électrique :  
oui  non   
Si oui, il utilise :

.....



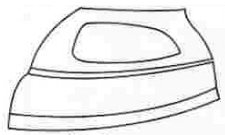
appareil électrique :  
oui  non   
Si oui, il utilise :

**Le secteur**



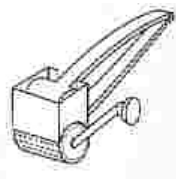
appareil électrique :  
oui  non   
Si oui, il utilise :

.....



appareil électrique :  
oui  non   
Si oui, il utilise :

**Le secteur**



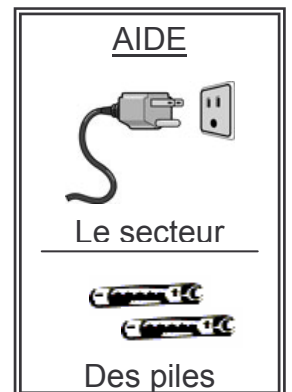
appareil électrique :  
oui  non   
Si oui, il utilise :

.....

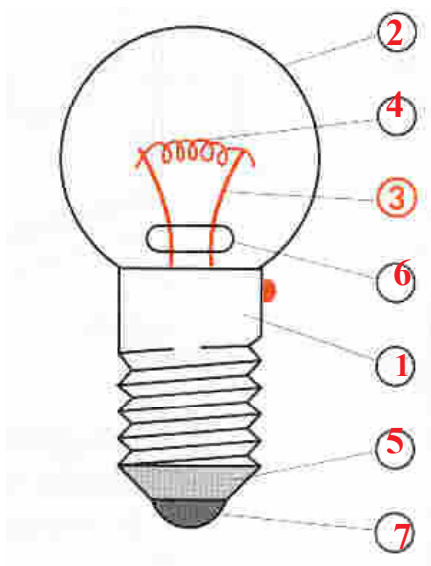


appareil électrique :  
oui  non   
Si oui, il utilise :

**Des piles**



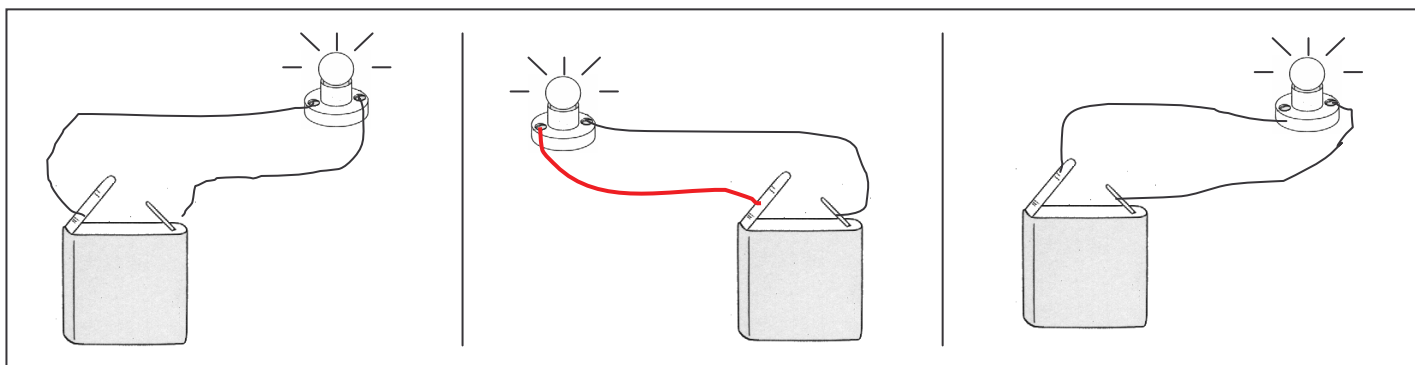
2/ Complète la légende du dessin en reportant les numéros :



### Légende

- 2 – ampoule de verre
- 4 – filament
- 3 – supports du filament
- 6 – perle en verre
- 1 – culot (vis)
- 5 – isolant
- 7 – plot

3/ Dessine ce qui manque dans chaque circuit pour que la lampe brille :



### Les dangers de l'électricité

4/ Tu peux voir sur l'affiche « Danger » une maison qui présente de nombreux risques liés à l'utilisation de l'électricité.

Trouve et entoure d'un trait de crayon chacun de ces dangers.

Puis, cherche, dans chaque cas, quel comportement il faut adopter pour les éviter.

