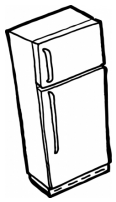
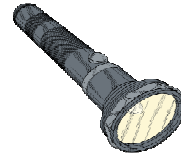



Électricité


Questionnaire - cycle 2

Prénom :
Classe :

Entoure les appareils qui n'existeraient pas sans électricité.

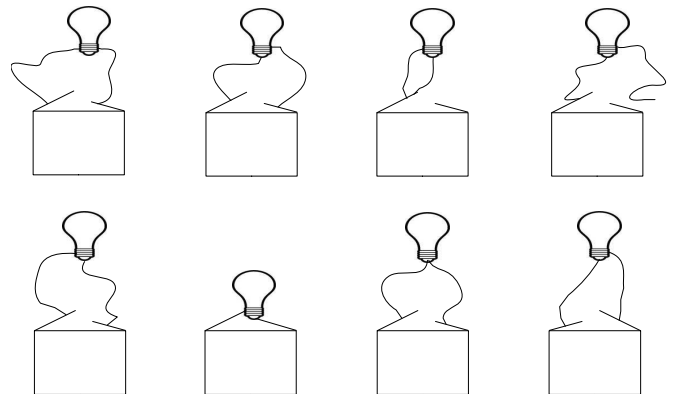


Attribue le bon numéro à chaque partie de l'ampoule.

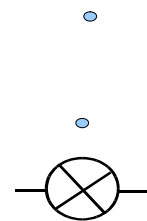
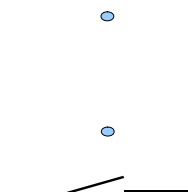

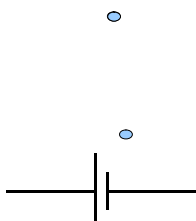


- 1 ampoule de verre
- 2 filament
- 3 culot
- 4 perle en verre
- 5 plot

Colorie les ampoules qui doivent normalement briller.

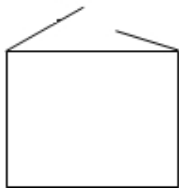


Relie chaque image avec le symbole correspondant.

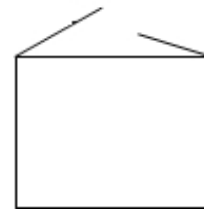
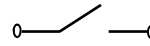


Questionnaire - cycle 2

Ajoute ce qui manque dans le circuit pour faire briller les deux ampoules.



Ajoute ce qui manque dans le circuit pour pouvoir faire briller l'ampoule.



Dans cette image, entoure les trois situations qui représentent un danger.

